


УТВЕРЖДАЮ

Первый заместитель начальника
главного управления по
образованию
Могилевского облисполкома



С.А.Сыранков

« 10 » марта 2019 г.

ЗАДАНИЯ

для проведения городских, районных олимпиад
по учебным предметам
«Всемирная история», «История Беларуси»

Дата проведения: 28 марта 2019 г.

Время выполнения заданий: 10.00 – 13.00.

IX класс

Задание I. ВЫБЕРИТЕ ПРАВИЛЬНЫЙ ВАРИАНТ ОТВЕТА:

1. Полис – это:

- а) центр могущественного государства;
- б) название города в древней Месопотамии;
- в) небольшой город-государство в Греции;
- г) область в Малой Азии.

2. Основателем Франкского государства стал:

- а) Хлодвиг;
- б) Карл Великий;
- в) Юстиниан;
- г) Канут Великий.

3. Летопись «Повесть временных лет» была создана:

- а) Кириллом и Мефодием;
- б) монахом Нестором;
- в) Климентом Охридским;
- г) Кириллом Туровским.

4. Столетняя война (1337 – 1453 гг.) велась между:

- а) Англией и Ирландией;
- б) Англией и Францией;
- в) Англией и Германией;
- г) Англией и Шотландией.

5. Манифест об окончании Отечественной войны был издан Александром I:

- а) в ноябре 1812 б) декабре 1812 в) феврале 1813 г) октябре 1813 г.

6. Формирование идеологии декабристов проходило под влиянием:

- а) общественно-политического и патриотического подъема после войны 1812 г.
б) реакционной политики Священного союза
в) западноевропейских социалистических идей
г) антидворянской политики Александра I

7. Автором картины «Наполеон у костра» является:

- а) В. Ванькович б) И. Хруцкий. в) Я. Дамель г) И. Олешкевич

8. Царствование Николая I пришлось на период:

- а) 1820-1850 гг б) 1825-1855 гг в) 1830-1860 гг. г) 1894-1918 г.

9. В 1794 г.:

- а) была установлена черта еврейской оседлости;
б) началась «якобинская диктатура» во Франции;
в) произошёл второй раздел Речи Посполитой;
г) началось британское завоевание Индии.

10. Крепостной театр С. Зорича был основан в:

- а) Слуцке; б) Ружанах; в) Могилёве; г) Шклове.

11. Битва при Адуа состоялась в:

- а) 1891 г.; б) 1895 г.; в) 1896 г.; г) 1898 г.

12. В первой половине XIX в. промышленность Беларуси была представлена преимущественно:

- а) металлообрабатывающими предприятиями;
б) стекольными фабриками и заводами;
в) предприятиями по переработке сельскохозяйственного сырья;
г) деревообрабатывающими предприятиями.

13. Присоединение униатов к Русской православной церкви произошло в:

- а) 1811 г.; б) 1820 г.; в) 1839 г.; г) 1844 г.

14. «Основателем» реформизма в международном рабочем движении был:

- а) Ф. Энгельс; б) В. Либкнехт; в) Э. Бернштейн г) А. Бебель

15. Тайпинское восстание в Китае началось в:

- а) 1848 г.; б) 1850 г.; в) 1852 г.; г) 1854 г.

16. По воинскому уставу 1874 г. срок воинской службы для лиц, имевших высшее образование сокращался до:

- а) 3 лет. б) 1,5 года. в) 6 месяцев. г) 3 месяца.

17. Народный герой Италии, генерал, который боролся за объединение своей страны:

- а) Джолитти; б) Гауди; в) Мадзини; г) Гарибальди.

18. Русско-японская война 1904 – 1905 гг. завершилась:

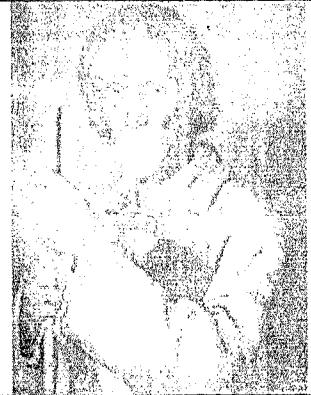



- а) Лондонским мирным договором; б) Берлинским мирным договором;
 в) Парижским мирным договором; г) Портсмутским мирным договором.

Задание II. ВПИШИТЕ ПРАВИЛЬНЫЙ ОТВЕТ:

1	Наука, изучающая историю, культуру, традиции, самобытность и общность белорусов	
2	Документы, содержащие описание феодальных владений, размеров крестьянских повинностей в Беларуси, Литве, Украине в XVI-первой половине XIX в.	
3	Политика самодержавия, согласно которой преимущественно мелкая шляхта исключалась из дворянства и переводилась в податное сословие при отсутствии подтверждающего шляхетское происхождение документа	
4	Предприятие, основанное на ручном труде и разделении его на операции	
5	Движение за отмену рабства в США	
6	Произвольное сочетание элементов разнородных стилей в архитектуре и изобразительном искусстве	
7	Христианская церковно-административная единица в пределах определенной территории	
8	Живопись водяными красками по свежей штукатурке	
9	Четырехугольный в плане укрепленный замок с каменными стенами и двумя башнями	
10	Участники Нидерландской буржуазной революции, которые воевали против испанского правления	

Задание III. СООТНЕСИТЕ:

1) художников и их произведения:

			
А	Б	В	Г
1. В. Ванькович;	2. К. Русецкий;	3. И. Олешкевич;	4. Н. Силиванович

1 -	2 -	3 -	4 -
-----	-----	-----	-----


2) авторов с названиями их произведений:

1. А. Мицкевич	а) «Заиграй, заиграй, хлопче малый...»;
----------------	---

2. Я.Барщевский	б) «Селянка» («Идиллия»);
3. В.Дунин-Марцинкевич	в) «Дзяды»;
4. П.Багрим	г) «Шляхтич Завальня...».

1 –	2 –	3 –	4 –
-----	-----	-----	-----

3) писателей и поэтов с их иллюстративными изображениями:



1. Я.Барщевский; 2. А.Мицкевич; 3. В.Дунин-Марцинкевич;
4. Ф.Богушевич.

1 –	2 –	3 –	4 –

4). даты и события истории Российской империи:

1) 1904 г.	А) Роспуск I Государственной думы
2) 1905 г.	Б) «Кровавое воскресенье»
3) 1906 г.	В) «Третьеиюньский государственный переворот»
4) 1907 г.	Г) Оборона Порт-Артура

1 –	2 –	3 –	4 –
-----	-----	-----	-----

Задание IV. ОПРЕДЕЛИТЕ, К КАКИМ СТРАНАМ ОТНОСЯТСЯ
УКАЗАННЫЕ ЯВЛЕНИЯ:

1. Гомстед-акт	
2.Славянофильство	
3.Декларация прав человека и гражданина	
4.Синьхайская революция	
5.Открытие Антарктиды	
6.Война Алой и Белой розы	
7.Государство маратхов	
8.Доктрина Монро	

Задание V. РАСПРЕДЕЛИТЕ ПЕРЕЧИСЛЕННЫЕ НИЖЕ
СОБЫТИЯ В СООТВЕТСТВУЮЩИЕ КОЛОНКИ ТАБЛИЦЫ:

1. Революция 1905 – 1907 гг.	2. Февральская революция 1917г.

- А) расстрел мирной демонстрации в Петербурге 9 января;
 - Б) восстание на броненосце «Потёмкин»;
 - В) подписание императором Николаем II акта об отречении от престола в пользу брата Михаила;
 - Г) всеобщая политическая стачка;
 - Д) обнародование царского Манифеста 17 октября;
 - Е) декабрьское вооружённое восстание в Москве;
 - Ж) созыв I Государственной Думы
- 3) установление двоевластия.

Задание VI. РАССТАВЬТЕ В ПРАВИЛЬНОЙ ПОСЛЕДОВАТЕЛЬНОСТИ:

1. Создание тайных организаций и обществ в Беларуси:

- а) Общество филаретов.
- б) «Демократическое общество»
- в) «Общество военных друзей»
- г) Общество филоматов.

1-	2-	3-	4-
----	----	----	----

2. События в сфере образования на территории Беларуси в первой половине XIX в.:

- а) Создание Горы-Горецкого земледельческого института;
- б) Закрытие Виленского университета;
- в) Открытие ланкастерской школы в России.

1 –	2 –	3 –
-----	-----	-----

3. События накануне и в период восстания 1863-1864гг.:

- а) Создание Литовского провинциального комитета;
- б) Приход «белых» к руководству восстанием в Беларуси и Литве;
- в) Создание Центрального национального комитета;
- г) Прибытие в Вильно М. Н. Муравьева для подавления восстания.

1 –	2 –	3 –	4 –
-----	-----	-----	-----

4. События второй половины XIX века в истории Европы

- а) раскол «Земли и воли»;
- б) основание I Интернационала;
- в) Парижская коммуна;
- г) отмена крепостного права в России

1 -	2 -	3 -	4 -
-----	-----	-----	-----

5. События войны 1812 г.:

- а) Объединение 1-й и 2-й российских армий под Смоленском;

- б) Переправа французских войск через Березину у деревни Студёнка;
- в) Создание Временного правительства ВКЛ;
- г) Бой у деревни Салтановка.


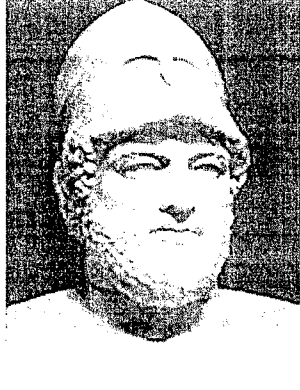






1 –	2 –	3 –	4 –
-----	-----	-----	-----


Задание VII. ОПРЕДЕЛИТЕ СОВРЕМЕННОКОВ ИСТОРИЧЕСКИХ ДЕЯТЕЛЕЙ:

1. Ян Гус	3. Оливер Кромвель
а) Франциск Скорина	а) Богдан Хмельницкий
б) Христофор Колумб	б) Франсиско Писарро
в) Витовт	в) Стефан Баторий
2. Антоний Тизенгауз	4. Всеслав Чародей
а) Пётр I	а) Оттон I Великий
б) Людовик XVI	б) Андрей Боголюбский
в) Фридрих Вильгельм IV	в) Вильгельм I Завоеватель

1 –	2 –	3 –	4 –
-----	-----	-----	-----

Задание VIII. РАССМОТРИТЕ ИЗОБРАЖЕНИЯ И УКАЖИТЕ ИМЕНА ИСТОРИЧЕСКИХ ЛИЧНОСТЕЙ:

			
1.	2.	3.	4.
			
5.	6.	7.	8.



Задание IX. КОМУ ПРИНАДЛЕЖАТ СЛОВА:

А) «Свет – это воз сена, и каждый старается урвать от его сколько сможет».

Б) «После нас хоть потоп! На мой век хватит!».

В) «Человек может сделать путь великим. Не путь делает великим человека».

Г) «... с одного только того, что было выполнено во время (первого) путешествия, их высочество могут убедиться, что я дам им столько золота, сколько им необходимо, когда их высочество окажут мне самую малую помощь; кроме того, острых приправ и хлопка – сколько пожелают их высочества приказать...».

Д) «Знание – это сила».

Е) «Когда б Бога не было, то его нужно было бы выдумать».

Ж) «Ослон и ученых – в середину!».

Задание X. ВЫЧЕРКНИТЕ ЛИШНЕЕ:

1. К числу повинностей крестьян в средние века относились: акцизные сборы, оброк, барщина, «куница».

2. В войне Алой и Белой розы приняли участие знатные династии: Валуа, Йорки, Ланкастеры, Тюдоры.

3. Тимур во 2 половине XIV в. подчинил: Среднюю Азию, Китай, Иран, Малую Азию.

4. К числу мировых религий относятся: христианство, буддизм, ислам, индуизм.

5. В состав Рады великого князя литовского входили: воевода, каштелян, войт, подскарбий.

Задание XI. ЯВЛЯЕТСЯ ЛИ ВЕРНЫМ УТВЕРЖДЕНИЕ? ДА или НЕТ.

1. Первым на белорусских землях памятником в стиле барокко стал костел Божьего Тела в Несвиже.

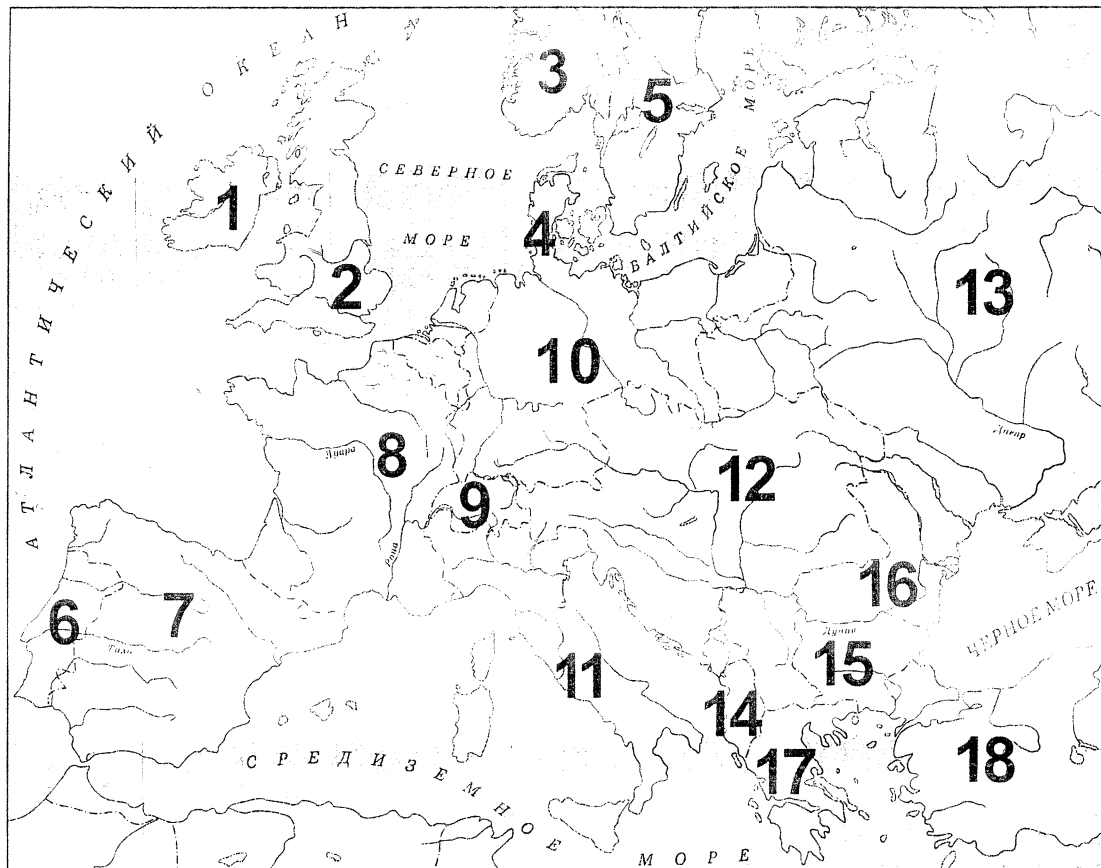
2. Первые фабрики на белорусских землях принадлежали Радивилам.

3. Восстание 1794 г. на землях ВКЛ возглавил Якуб Ясинский.

4. Поводом к началу I Мировой войны стало убийство в Сараево наследника австро-венгерского престола Франца-Фердинанда.
5. Николай I в русской истории получил прозвище Реформатор.
6. По решению ЮНЕСКО 2002 год был официально объявлен годом Игнатия Домейко.
7. К.Калиновский в восстании 1863 г. возглавлял «красных»-правых.

**Задание XII. НАПИШИТЕ, КАКОЙ ЦИФРОЙ НА КАРТЕ
ОБОЗНАЧЕНО ТО ИЛИ ИНОЕ ГОСУДАРСТВО XIX в.**

1.	Область, в которой впервые стала использоваться такая форма борьбы, как бойкот, выразившийся, в частности, в отказе крестьян платить арендную плату, отмечена на карте цифрой:
2.	Напишите, какими цифрами на карте обозначены страны, которые к последней трети XIX в. сумевшие преодолеть раздробленность своих земель.
3.	Государство, представлявшее собой в конце XIX в. объединение 22 монархий и трех вольных городов, отмечено на карте цифрой:
4.	Напишите, какими цифрами на карте обозначены страны, где произошли революции 1848-1849 гг.
5.	Напишите, какими цифрами на карте обозначены страны, объявившие в 1912 году войну Турции.
6.	Напишите, какой цифрой на карте обозначена страна, которая накануне Первой мировой войны входила в Тройственный союз, а в годы войны перешла на сторону Антанты.
7.	Государство, которое в Новое время сменило три республики и две империи.
8.	Государство, которое в 1908 году объявила себя царством и провозгласила независимость от Турции.
9.	Государство, в котором в 1881г. узкой группой заговорщиков был убит верховный правитель, отмечено на карте цифрой:



Ключи 9 класс

№	Ответы	Баллы
I. I- 18	1.в; 2.а; 3. б; 4. б; 5.б.; 6. а; 7.а; 8. б; 9. а; 10. г; 11. в; 12. в; 13.в; 14. в; 15.б; 16. в; 17.г; 18.г	За каждый правильный ответ -1 балл. Всего 18 баллов;
II	1.Белорусоведение.2. Инвентари.3. Разбор шляхты.4. Мануфактура.5. Аболиционизм.6. Эkleктика.7. Епархия.8. Фреска. 9. Кафель.10. Гезы.	За каждый правильный ответ -2 балла. Всего 20 баллов;
III	1)1-Б, 2-В, 3-Г, 4-А 2) 1-В, 2-Г, 3-Б, 4-А. 3) 1-А,2- Б, 3- Г, 4- В. 4)1-Г, 2-Б, 3-А, 4-В	по 0,5 баллу за каждое правильно отмеченное соответствие. Всего 8 баллов.
IV	1- США, 2- Россия, 3- Франция, 4- Китай, 5- Россия, 6- Англи 7- Индия, 8 - США	За каждый правильный ответ -1 балл. Всего 8 баллов;
V	1. А. Б Г Д, Е, Ж; 2. В, 3	За каждый правильный ответ -1 балл. Всего 8 баллов.
VI	1.г-а-в-б; 2. в-б-а; 3.в-а-в-г; 4. а-г-в-б; 5. г-а-в-б	За каждый правильный и полный ответ -2 балла. Всего 10 баллов.
VII	1.Витовт. 2. Людовик XVI 3. Богдан Хмельницкий 4. Вильгельм Завоеватель	За каждый правильный ответ -2 балла Всего:8 балла.
VIII	1-Конфуций, 2- Перикл, 3-Тимур, 4- Петрарка. 5- Мартин Лютер, 6-Георх VIII, 7- Людовик XIV, 8 Наполеон Бонапарт. 9 –Януш Радзивилл, 10 –М.К.Огинский, 11 – Ипатей Потей, 12 – Тадеуш Костюшко.	За каждый правильный ответ -2 балла Всего:24 балла.
IX	А-Иерониму Босху; Б- Людовику XIV; В--Конфуцию; Г- Христофору Колумбу; Д-Дени Дидро; Е- Вольтеру; Ж - Наполеону I Бонапарту.	За каждый правильный ответ -1 балл Всего:7 баллов.
X	1.Акцизные сборы. 2.Валуа, Тюдоры. 3. Китай, Малую Азию. 4. Индуизм. 5. Войт.	По 1 баллу за каждое лишнее звено. Всего- 7 баллов.
XI	1.да.2. нет.3.да.4.да. 5. Нет. 6. Да. 7. Нет.	За каждый правильный ответ - 1 балл Всего 7 баллов
XII	1. (Ирландия)	1-
	2. (Германия, Италия)	10,11
	3. (Германия)	10
	4. (Германия, Австро-Венгрия, Италия, Франция)	8, 10, 11, 12
	5. (Болгария, Греция, Черногория)	14, 15, 17
	6. (Италия)	11
	7. (Франция)	8
	8. (Болгария)	15
	9. (Россия)	13
		Итого: 140 баллов